

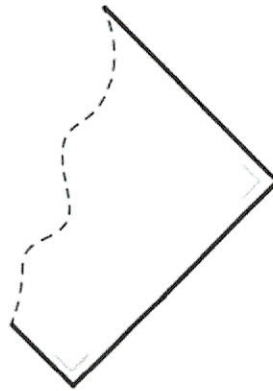
Solides et figures



1/ Voici une figure dont une partie a été déchirée.

Pour chacune de ces propositions,
trace une croix dans la colonne qui convient.

Cette figure pourrait être	Vrai	Faux
un CARRÉ	X	
un TRIANGLE		X
un RECTANGLE	X	



2/ Complète le tableau

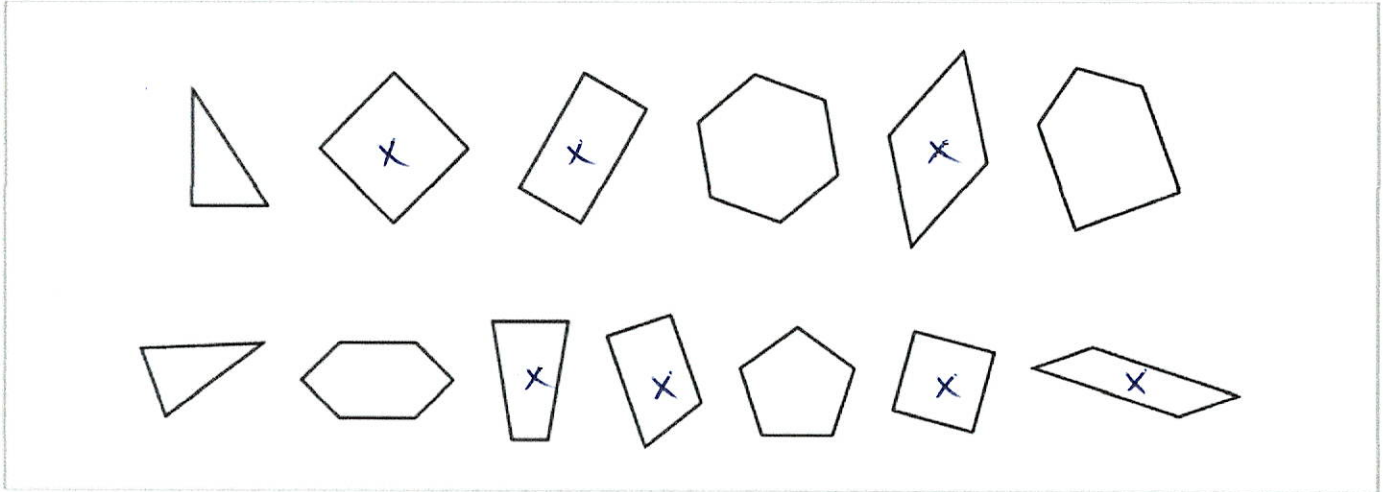
Polygones	Longueur du			
	côté 1	côté 2	côté 3	côté 4
Rectangle	16 cm	7 cm	16 cm	7 cm
Triangle isocèle	3 cm	2 cm	3 ou 2 cm	
Carré	2,5 cm	2,5 cm	2,5 cm	2,5 cm
Losange	11 cm	11 cm	11 cm	11 cm
Triangle équilatéral	9 cm	9 cm	9 cm	

3/ La figure A est un parallélogramme mais n'est pas un losange.

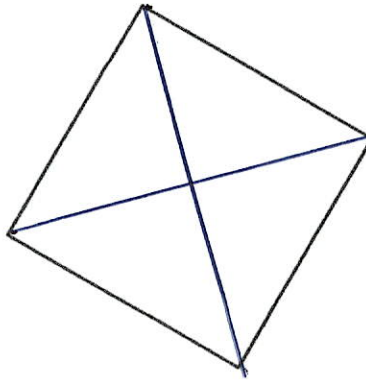
On a transformé cette figure A. Complète les cases du tableau par oui ou non.

	A	B	C
C'est un parallélogramme	OUI	oui	oui
C'est un losange	NON	oui	non

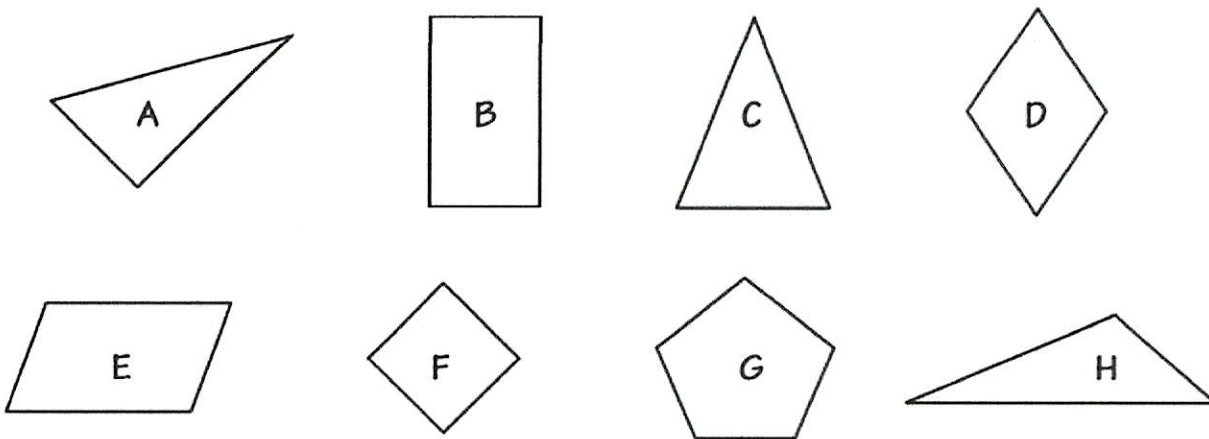
4/ Trace une croix dans tous les quadrilatères.



5/ Trace les diagonales de ce carré en utilisant ta latte.



6/ Observe ces figures et complète en écrivant la lettre qui correspond.



- La figure **F** est un carré.
- La figure **A** est un triangle rectangle.
- La figure **D** est un losange non carré.
- La figure **C** est un triangle isocèle.

Solides et figures



7/ Pour chaque proposition, écris de quel quadrilatère il s'agit.

	C'est un...
4 côtés de même longueur, 4 angles droits	carre
Côtés opposés de même longueur, 2 angles obtus et 2 angles aigus	parallélogramme
4 côtés de même longueur, 2 angles obtus et 2 angles aigus	losange

8/ Écris le numéro des 2 figures correspondant à chaque proposition.

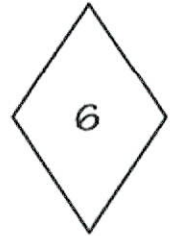
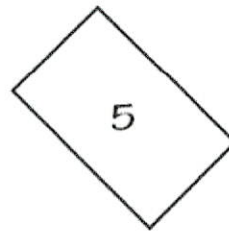
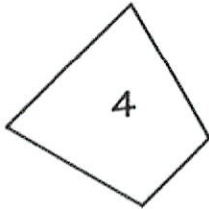
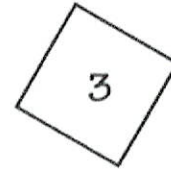
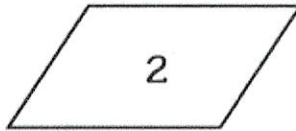

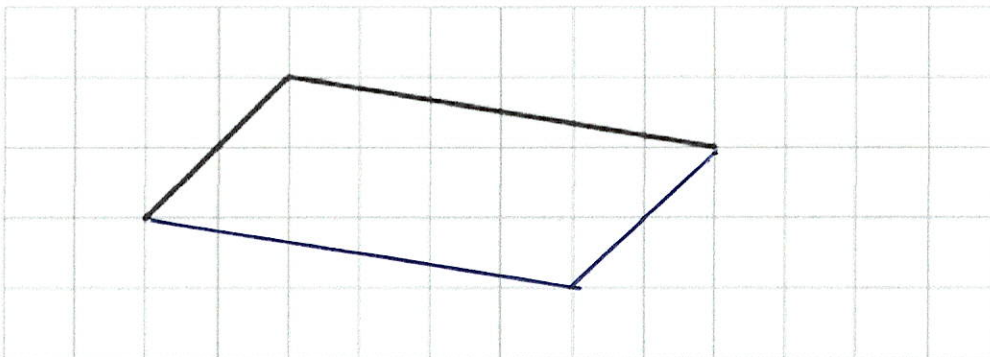
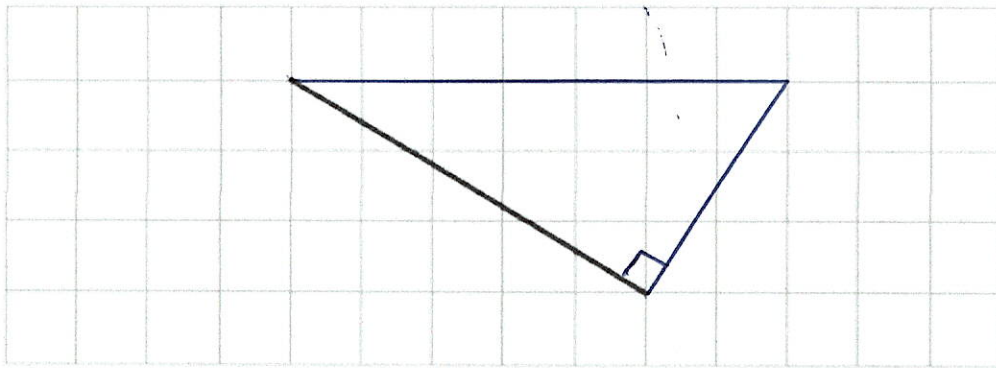


	Figure n°	
4 côtés de même longueur.	3	6
Côtés opposés de même longueur, 2 angles aigus et 2 angles obtus.	2	6

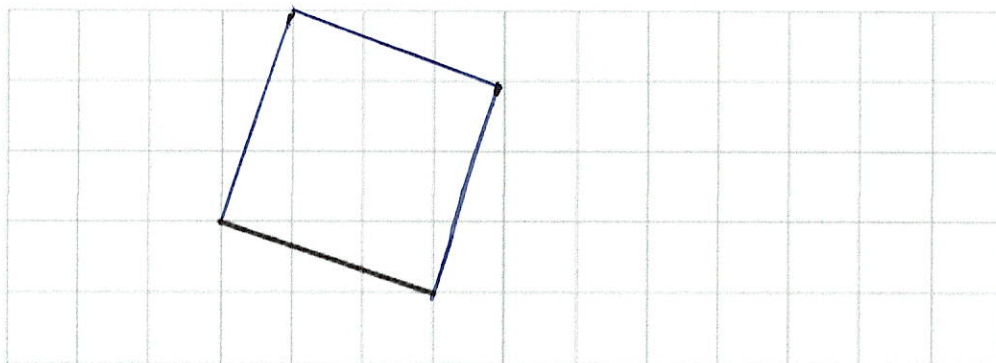
9/ Voici 2 côtés d'un parallélogramme. Achève de tracer ce parallélogramme.



10/ Voici un côté d'un triangle rectangle. Achève de tracer ce triangle rectangle.



11/ Voici un côté d'un carré. Achève de tracer ce carré.



12/ La droite tracée en pointillé dans chaque figure est-elle un axe de symétrie ?

Ecris, en dessous de chaque figure, **oui** si c'est le cas ou **non** si ce n'est pas le cas.

