

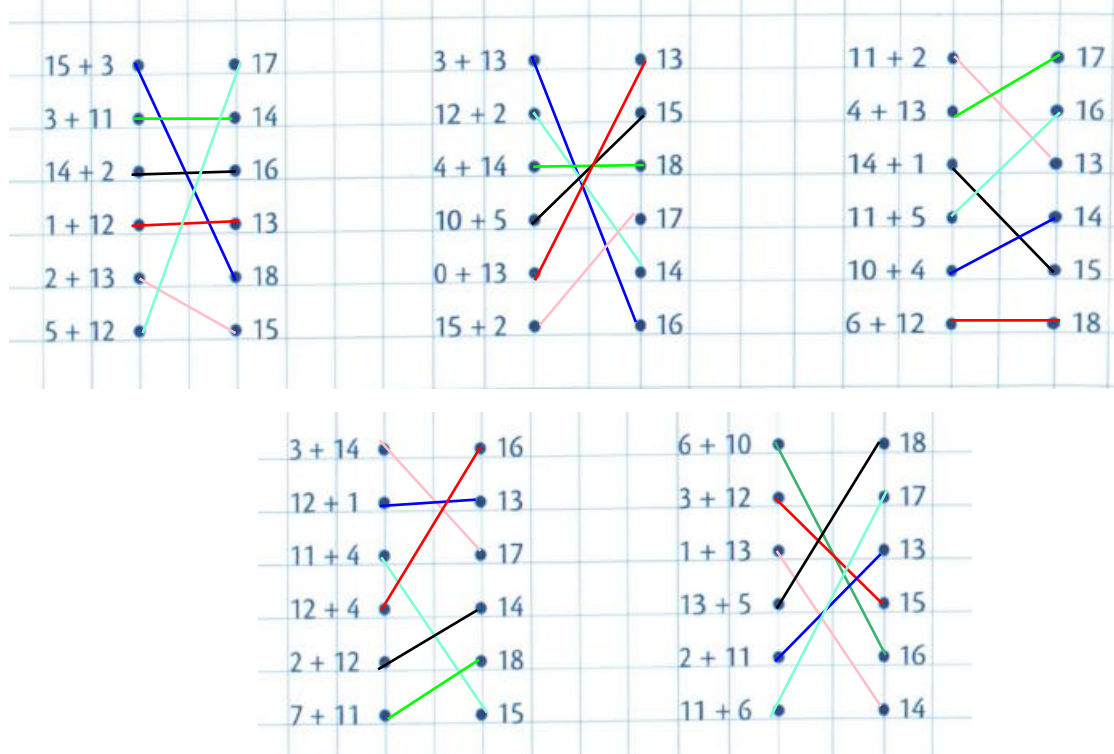
Prénom : _____

Je calcule

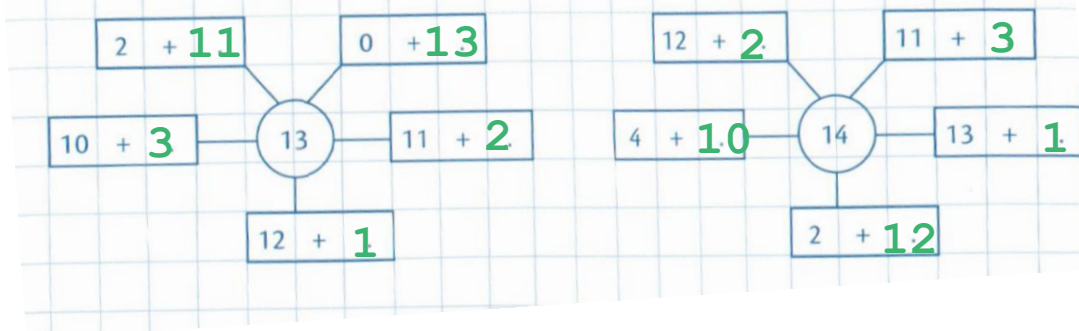
1) Résous ces additions.

$14 + 4 = 18$	$3 + 14 = 17$	$13 + 4 = 17$	$15 + 2 = 17$	$15 + 3 = 18$
$11 + 6 = 17$	$4 + 11 = 15$	$2 + 13 = 15$	$12 + 6 = 18$	$5 + 11 = 16$
$4 + 12 = 16$	$16 + 2 = 18$	$5 + 13 = 18$	$6 + 10 = 16$	$7 + 10 = 17$
$7 + 11 = 18$	$2 + 14 = 16$	$10 + 8 = 18$	$5 + 12 = 17$	$17 + 1 = 18$

2) Calcule et relie chaque addition à son résultat.




3) Complète les additions pour obtenir le nombre du cercle.



Prénom : _____

4)

Complète ! Essaie de ne pas faire d'erreur.



5)

Complète pour obtenir 17.

3 + 14	11 + 6	1 + 16	15 + 2	14 + 3
0 + 17	12 + 5	7 + 10	13 + 4	11 + 6

6)

Colorie en vert les additions qui font 15 et en violet celles qui font 16.

