




# L'heure


1) Quelle heure est-il ?




il est ..... h.....




il est ..... h.....




il est ..... h .....




il est ..... h.....




il est ..... h.....




il est ..... h.....




il est ..... h.....




il est ..... h.....




il est ..... h.....



il est ..... h.....



il est ..... h.....



il est ..... h.....



Trace la petite aiguille suivant l'heure donnée



il est 5 h




il est 8 h




il est 9 h



il est 6 h




il est 11 h




il est 1 h


Trace la grande aiguille suivant l'heure donnée



il est 12h20



il est 10 h35




il est 3 h



il est 8 h 08



il est 5 h 10



il est 10 h 05



Place les 2 aiguilles correctement.  
Attention ! Fais bien la différence entre la  
grande et la petite aiguille.



il est 6 h 00



il est 11 h 15



il est 1 h 30



il est 6 h 25



il est 11 h 55



il est 14 h 14



il est 8 h 17



il est 2 h 33



il est 10 h 50



il est 5 h 05




il est 8 h 38



il est 9 h 45




Relie l'horloge à la bonne heure




• il est 8h 30 •

• il est 10h 00 •




• il est 1h •

• il est 10h35 •



• il est 3h •

• il est 4h18 •








• il est 5h36 •

• il est 12h 15 •



• il est 2h •

• il est 7h 25 •







Complète les horloges ou indique l'heure suivant la situation.



Je me lève à ..... h



A 8h, 15 je pars à l'école



Il est ..... h..... ! Au travail !



Il est midi et nous allons dîner.

