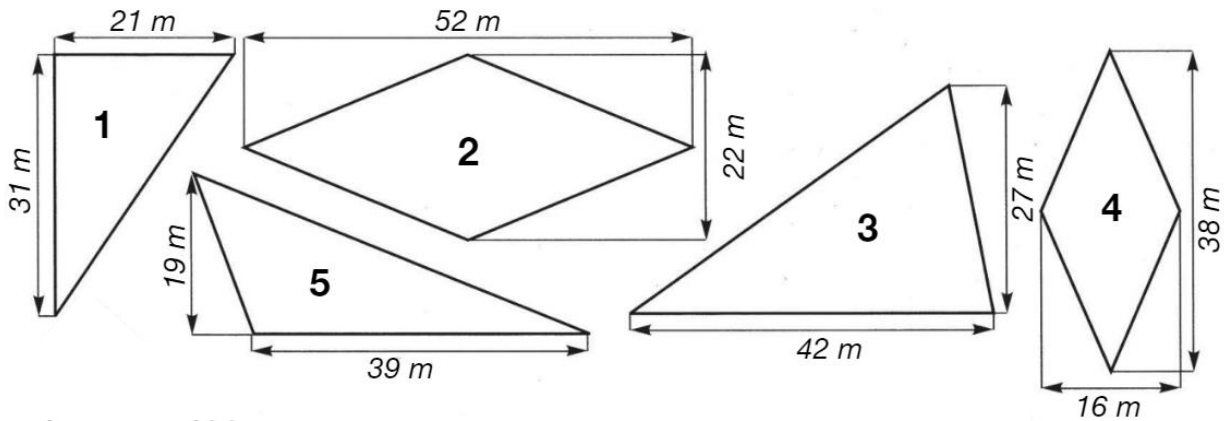


Révisions

Grandeurs



Complète.

figure	aire
1	$(31\text{ m} \times 21\text{ m}) : 2 = 325,5\text{ m}^2$
2	$(52\text{ m} \times 22\text{ m}) : 2 = 572\text{ m}^2$
3	$(27\text{ m} \times 42\text{ m}) : 2 = 567\text{ m}^2$
4	$(38\text{ m} \times 16\text{ m}) : 2 = 304\text{ m}^2$
5	$(19\text{ m} \times 39\text{ m}) : 2 = 370,5\text{ m}^2$

Vocabulaire

Relie chaque mot ou expression à son synonyme.

- | | |
|---|--|
| <ul style="list-style-type: none"> faire du mal ● sévère ● mais ● passionnant ● peureux ● courageux ● ensorceler ● | <ul style="list-style-type: none"> ● craintif ● envoûter ● nuire ● strict ● captivant ● téméraire ● cependant |
|---|--|

Fractions

Classe ces fractions dans l'ordre croissant : $\frac{1}{2}$ $\frac{4}{6}$ $\frac{4}{3}$ $\frac{3}{12}$ $\frac{8}{24}$

Zone de travail

$\frac{1}{2} = \frac{6}{12}$ $\frac{4}{6} = \frac{8}{12}$

$\frac{4}{3} = \frac{16}{12}$ $\frac{8}{24} = \frac{4}{12}$

$\frac{3}{12} < \frac{8}{24} < \frac{1}{2} < \frac{4}{6} < \frac{4}{3}$
















Orthographe





Surligne la bonne réponse.

- Il **a/à** un charmant sourire.
- **Son/sont** héros **et/est** Harry Potter.
- **Ont/on** aime **aller/allé** se baigner.
- **C'est/s'est** un homme antipathique.
- La fée **se/ce** lève tôt **se/ce** matin.
- Il a **casser/cassé** la machine à **laver/lavé**.
- **Ses/ces** hommes **son/sont** dangereux.
- Il **a/à** peur de **son/sont** propre frère.

Calcul

Retrouve à quels nombres correspondent les 4 dessins.

 X  = 64	 X  = 
 X  = 	 +  = 
 =  +  + 	

 = 8
 = 2
 = 4
 = 16

Savoir écrire

Réécris ces phrases en mettant correctement la ponctuation. N'oublie pas les majuscules !

- quand tu viendras chez moi je serai content.

Quand tu viendras chez moi, je serai content.

- il fait beaucoup de sport du tennis du football et du vélo

Il fait beaucoup de sport : du tennis, du football et du vélo.

- que feras-tu pendant les vacances

Que feras-tu pendant les vacances ?

- le corbeau dit au renard que vous me semblez joli

Le corbeau dit au renard : « Que vous me semblez joli ! »

Numération

Entoure les expressions qui sont équivalentes à la fraction de départ.

1/4	0,4 • 25% • 0,25 • 4% • 2,5
3/20	0,15 • 30% • 3% • 15% • 0,2

3/6	36% • 0,5 • 0,03 • 50% • 0,05
6/10	60% • 0,06 • 0,6 • 6% • 0,66

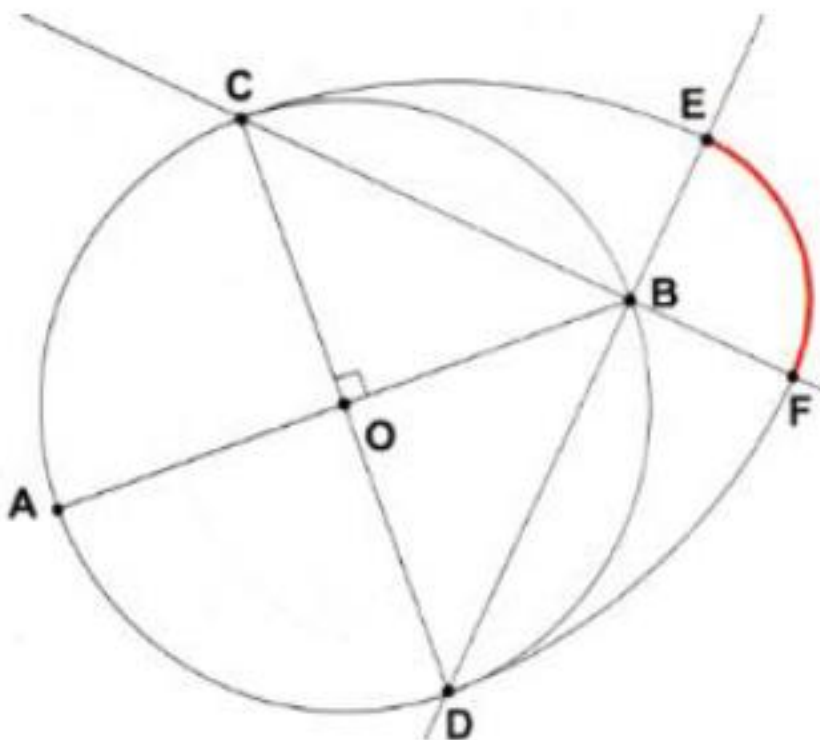
Conjugaison

Parmi les sujets proposés pour les verbes en gras, barre celui / ceux qui ne conviennent pas.

- Je / Tu / ~~Il~~ **viens** nous voir ce soir.
- ~~Paul et Jean~~ / Toi et moi / Nous **ferons** de nombreuses visites pendant les vacances.
- Ils / ~~Il~~ / Des hommes / ~~Tout le monde~~ **sont partis**.
- Je / ~~tu~~ / ~~on~~ **dansai** quand mon frère / ~~mes frères~~ / il **apparut**.
- **Nous** / Ils / ~~Elle~~ / ~~Les enfants et moi~~ **feront** du deltaplane cet été.
- Elles / ~~Us~~ / Jeanne et Elise / ~~Vous et moi~~ **sont devenues** sages.

Géométrie

- Trace un cercle de centre O.
- Trace un diamètre [AB].
- Trace le diamètre [CD] perpendiculaire à [AB].
- Trace la droite (BD).
- Trace la droite (BC).
- Trace l'arc de cercle de centre D, de rayon CD, de C à la droite (BD). Il coupe (BD) en E.
- Trace l'arc de cercle de centre C, de rayon CD, de D à la droite (BC). Il coupe (BC) en F.
- Trace l'arc de cercle de centre B, de rayon BE, de E à F.



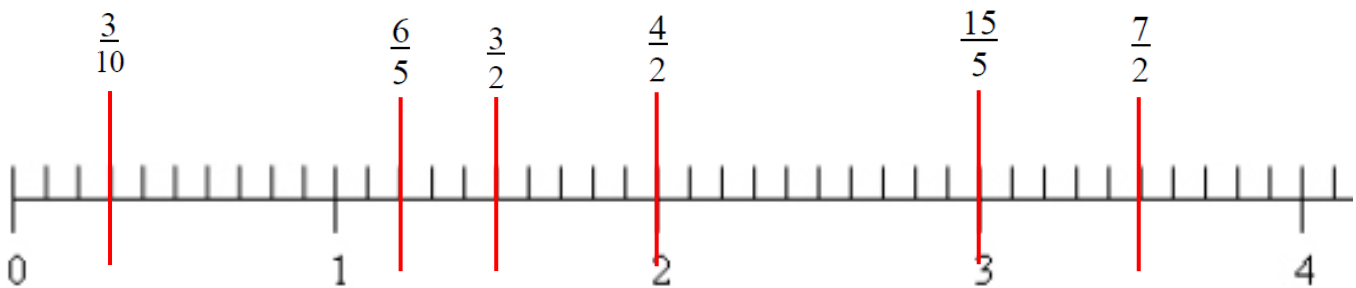
Grammaire

Souligne en vert les adjectifs qualificatifs épithètes et en rouge pour les adjectifs qualificatifs attributs.

La petite maison des Parker est très étonnante. Sa façade blanche contraste avec le lierre vert qui grimpe le long des murs légèrement ternes. Le toit gris ressemble à une grande ardoise. Certaines pièces sont étroites, mais bien éclairées. Les fenêtres à carreaux apportent une note de pure gaieté et de douce fraîcheur. C'est une très belle demeure.

Fractions

Place les fractions au bon endroit sur la droite numérique.



Orthographe

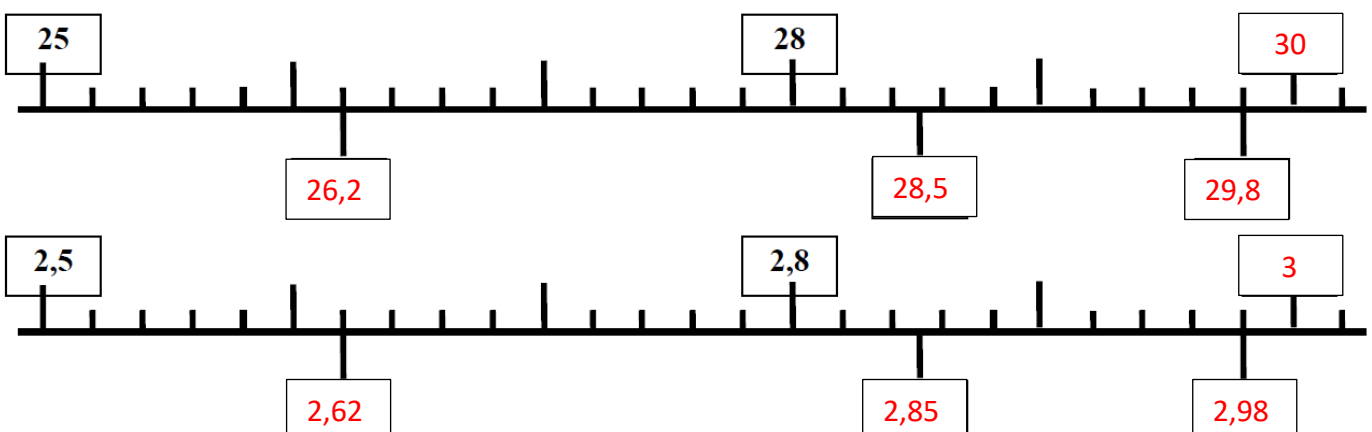
Accorde les participes passés.

Les coureurs ont réparé leurs vélos.

Les touristes étaient installés sur les talus pour les voir passer. La caravane du Tour est passée une heure avant. Elle a distribué des bidons. Les gens ont ramassé ce qu'ils pouvaient. Ils étaient pressés de le faire avant que les coureurs arrivent.

Numération

Ecris le nombre qui convient dans chaque case vide.



Calcul mental

Effectue ces calculs en 10 minutes maximum.

$13 \times 5 = 65$

$\text{le triple de } 10,1 = 30,3$

$1/2 \text{ de } 3/4 = 0,375 \text{ ou } 3/8$

$6 \times 9 \times 15 \times 2 \times 0 = 0$

$23 + 456 + 17 + 44 = 540$

$7 - 2 = 700 - 695$

$140,2 - 40,2 = 100$

$1024 : 8 = 128$

$800 - 127 = 673$

$7009 + 0 - 9 = 7000$

$25\% \text{ de } 9 = 2,25$

$50\% \text{ de } 460 + 50\% \text{ de } 140 = 230 + 70 = 300$

$(245 : 5) + (14 : 2) = 49 + 7 = 56$

$11 \times 21 = 231$

$9 \times 36 = 324$

$0,4 \times 0,7 = 0,28$

$\text{le dixième de } 9 = 0,9$

$0,1 \times 0,1 = 0,01$

$2 \times 2 \times 2 \times 2 \times 2 \times 2 \times 2 = 128$

$42 : 0,5 = 84 : 1$

Conjugaison

Conjugué les verbes entre parenthèses au temps demandé.

L'orage qui **est arrivé** (arriver, passé composé de l'indicatif) ce matin **a été** (être, imparfait de l'indicatif) si violent que Julien a eu très peur. Des arbres **sont tombés** (tomber, passé composé de l'indicatif) et beaucoup de feuilles jaunies **jonchent** (joncher, présent de l'indicatif) maintenant le sol. Dans le ciel, de gros nuages menaçants **courent** (courir, présent de l'indicatif) vers l'horizon. Nul doute, l'automne **arrivera** (arriver, futur de l'indicatif) plus tôt que d'habitude. Les jardiniers **devront** (devoir, futur de l'indicatif) être prévoyants.

Calcul : les multiples

Barre l'intrus de chaque ligne.

- 24 – 32 – **38** – 40 – 16 – 64 – 80 – 120
- 70 – 14 – 21 – 63 – 84 – 1400 – 56 – **37**
- 48 – **56** – 24 – 30 – 66 – 120 – 54 – 12
- 8 – 16 – 64 – 88 – 160 – 72 – 56 – **35** – 40

Calcul écrit


$54,7 \times 6,8 = 371,96$

$468 : 13 = 36$

Lecture

- Barre les groupes de mots qui ne respectent pas le sens du texte.

As-tu déjà entendu, venant d'un bois proche, le hululement d'un oiseau de nos régions ? Certains prétendent qu'il porte malheur. ~~Le chat est noir aux yeux jaunes.~~ C'est vraisemblablement celui du hibou grand-duc, oiseau au doux plumage brun taché et rayé de noir. Perché, droit comme un « i » sur une branche, ~~la pomme est bien verte et juteuse,~~ ses ailes couvrent en partie un ventre d'un roux clair zébré de brun foncé. Deux touffes de plumes appelées « aigrettes » se dressent sur sa tête ronde lorsqu'il est dérangé. Ses gros yeux rouge orange lui permettent ~~de voir dans le noir.~~ ~~La lampe reste souvent allumée.~~ Il utilise son gros bec robuste et crochu pour déchiqeter maintient à l'aide de quatre redoutables griffes acérées, les serres. ~~Dans celles-ci, les tomates poussent très bien.~~ Le grand-duc est un des rapaces nocturnes les plus puissants d'Europe. Il vit principalement la nuit afin de bien percevoir ses proies.



- Lis puis réponds aux questions

En ce début d'année, je me demandais où je pourrais me rendre pour passer des vacances agréables au soleil et au bord d'une mer turquoise.

En quelle saison sommes-nous ? **Nous sommes en hiver.**

Peux-tu préciser un mois ? **Nous sommes en janvier. (cf « en ce début d'année »)**

Est-il envisageable que ces vacances se déroulent en Belgique ? Justifie ta réponse ?

Non, car il y a peu de soleil en hiver et il n'y a pas de mer turquoise en Belgique.

Géographie

Utilise des couleurs différentes pour retrouver les 10 provinces belges.

L	B	F	L	A	N	D	R	E	O	C	C	I	D	E	N	T	A	L	E
I	U	H	N	R	B	R	A	B	A	N	T	W	A	L	L	O	N	F	N
E	A	X	D	L	I	M	B	O	U	R	G	H	D	C	A	H	V	C	A
G	B	R	A	B	A	N	T	F	L	A	M	A	N	D	L	B	E	X	M
E	H	A	I	N	A	U	T	H	L	U	X	E	M	B	O	U	R	G	U
F	L	A	N	D	R	E	O	R	I	E	N	T	A	L	E	P	S	O	R