

Prénom :

Date :

Eveil historique et géographique

Révision

1/ En Belgique, les habitants sont répartis dans trois régions. Six élèves se présentent.

MARQUE d'une croix leur région.

	Région wallonne	Région flamande	Région Bruxelles-Capitale
Je m'appelle Antoine et j'habite Namur.			
Je m'appelle Else et j'habite à Gand.			
Je m'appelle Rupper et j'habite Eupen.			
Je m'appelle Sarah et j'habite près de la Grand-Place de Bruxelles.			
Je m'appelle Bart et j'habite Ostende.			
Je m'appelle Isabelle et j'habite Liège.			

2/ A quel continent appartiennent les pays suivants ?

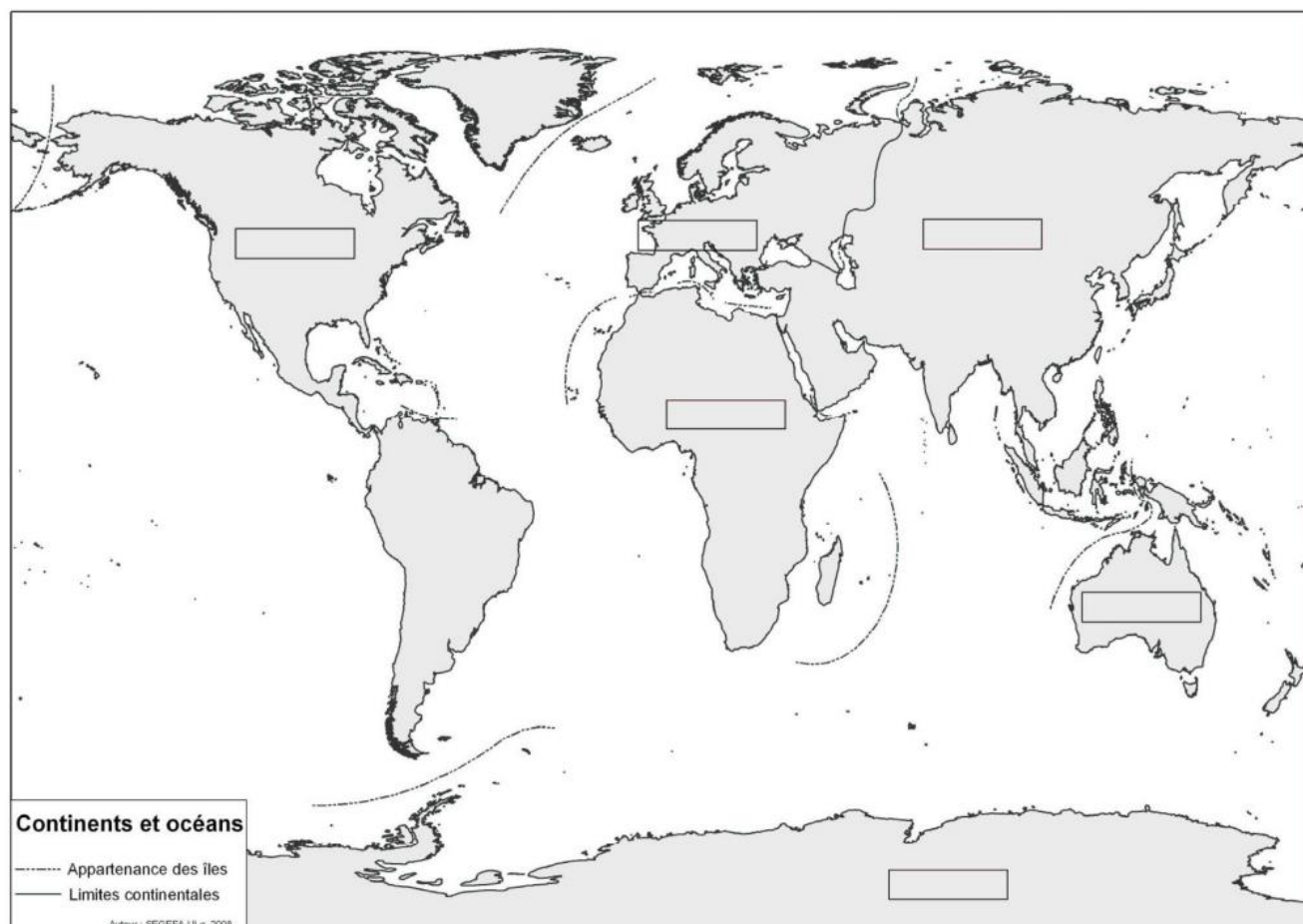
Belgique →

Chine →

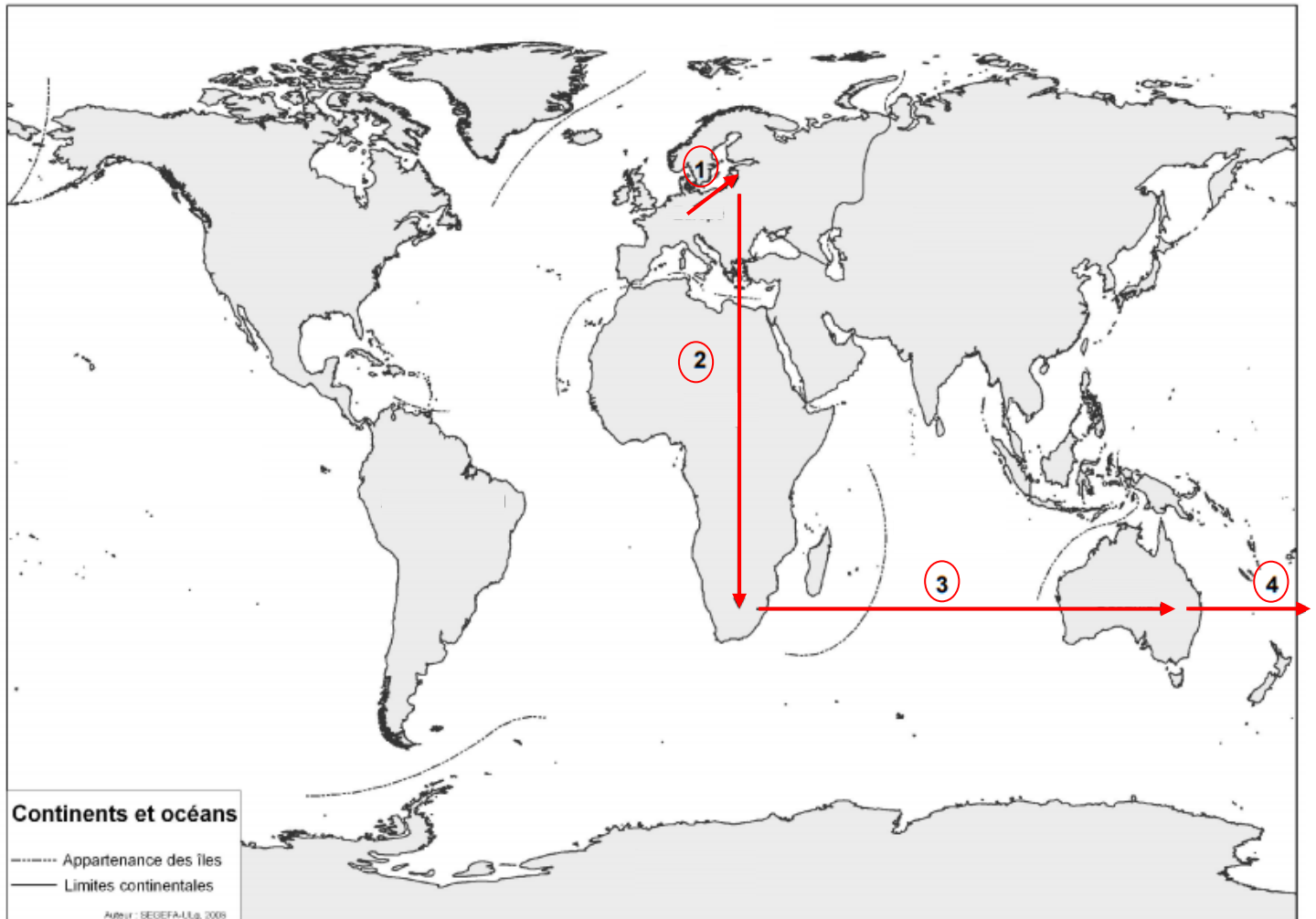
Etats-Unis →

Australie →

Observe le planisphère ci-dessous. ECRIS le nom des quatre pays dans leur continent respectif.



3/ Regarde le trajet du voyageur sur le planisphère et COMPLETE.



→ Un voyageur quitte l'aéroport de Bruxelles pour Saint-Pétersbourg (1).

Il se déplacera vers : ☐ le Sud-Est ☐ le Sud-Ouest ☐ le Nord-Est ☐ le Sud-Ouest

Il passera au-dessus d'un océan : ☐ OUI ☐ NON

Si oui, lequel ? _____

→ De Saint-Pétersbourg, il gagnera Johannesburg (2).

Il se déplacera vers : ☐ l'Ouest ☐ l'Est ☐ le Nord ☐ le Sud

Il passera au-dessus d'un océan : ☐ OUI ☐ NON

Si oui, lequel ? _____

→ De Johannesburg, il se rendra à Sydney (3).

Il passera au-dessus d'un océan : ☐ OUI ☐ NON

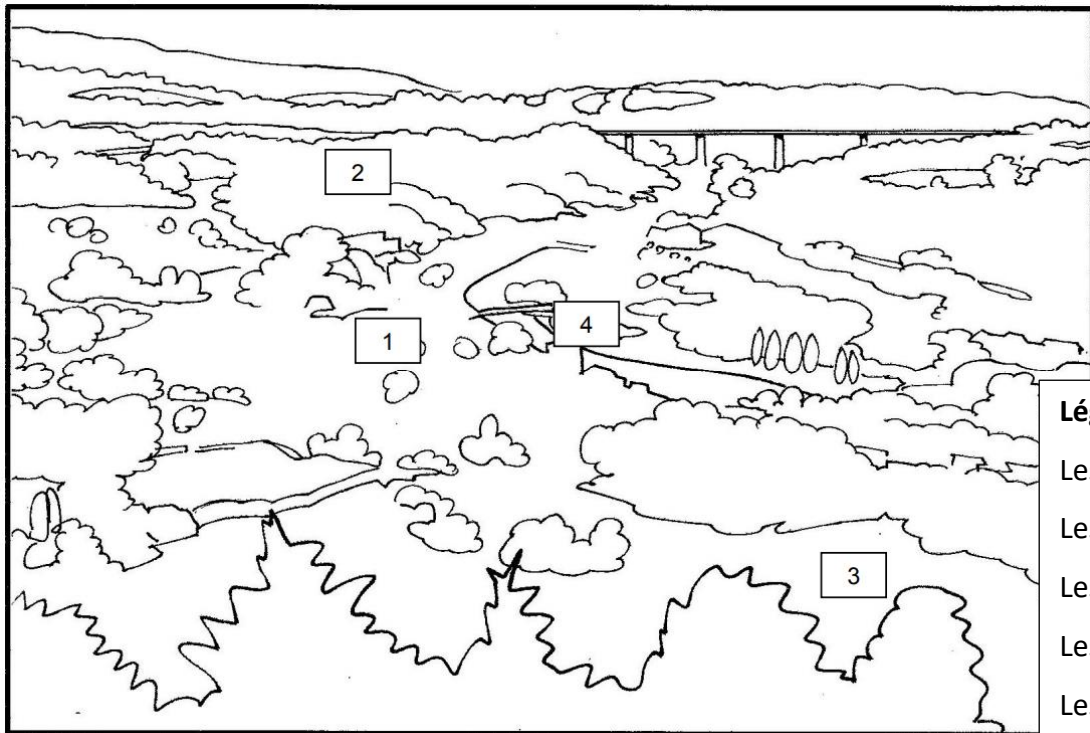
Si oui, lequel ? _____

→ S' il continue sa route vers l'Est, il atteindra (4) :

☐ l'Europe ☐ le Pôle Nord ☐ l'Afrique ☐ l'Amérique

4/ OBSERVE attentivement la photo ainsi que le croquis ci-dessous. Ils représentent le même paysage.

COLORIE les rectangles 1, 2, 3 et 4 du croquis en respectant la légende.



Légende

Les espaces bâtis : gris

Les prairies : vert clair

Les bois : vert foncé

Les cultures : jaune

Les cours d'eau : bleu

5/ OBSERVE les faces de la pièce commémorant l'indépendance de la Belgique.



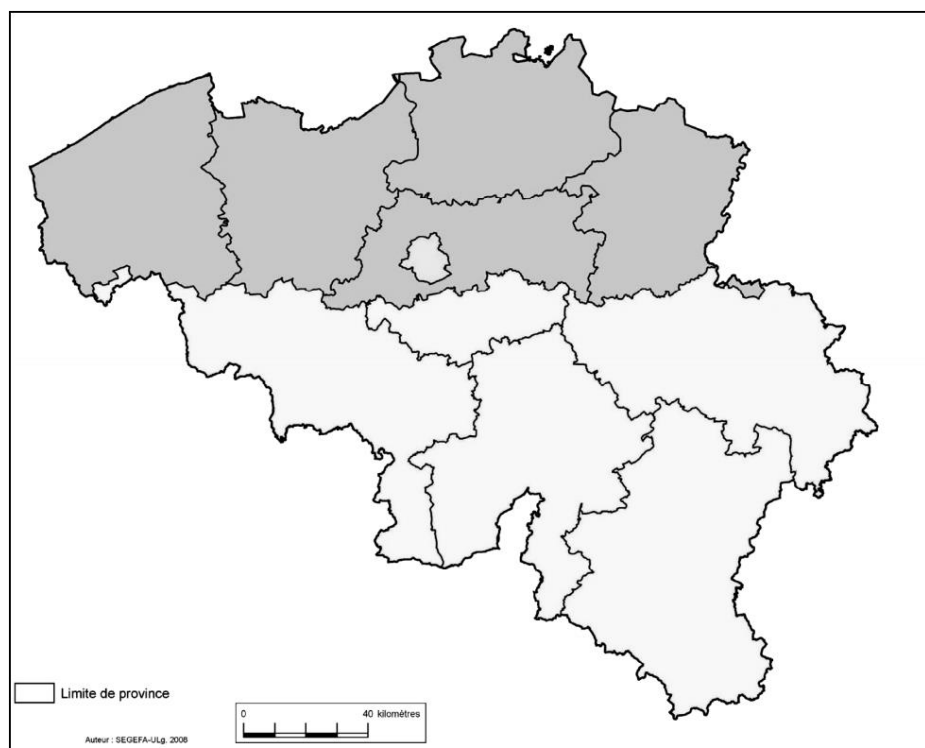
ECRIS les années de début et de fin de la période commémorée.

→ De _____ à _____

6/ LIS attentivement la description des musées.

1. Le Château de Bouillon	
Bp 13– 6813 Bouillon Province de Luxembourg Tél: 061/4666257	Le plus ancien et le plus intéressant vestige de la féodalité en Belgique. Il fut immortalisé par le Duc Godefroi, chef de la première Croisade.
2. Préhistosite de Ramioul	
Rue de la Grotte, 128 4400 Ivoz-Ramet Province de Liège Tél: 04/2754975	Réveillez le primitif qui est en vous. Venez fêter l'anniversaire de l'homme de Neandertal avec nous.
3. Musée de l'imprimerie et des lettres de Wallonie	
Rue Verte, 1B– 6530 Thuin Province du Hainaut Tél: 071/595970	Venez découvrir, entre autres, une collection de machines d'imprimerie avec des caractères typographiques en bois, de la période de Gutenberg.
4. Fondation Folon	
Ferme du Domaine de La Hulpe Drève de la Ramée B 1340 La Hulpe Province du Brabant Wallon Tél: 02/6533456	Peintre né à Bruxelles durant l'entre-deux guerres, Jean-Michel Folon fut le maître belge de l'aquarelle.
5. Archéoparc de Malagne La Gallo-Romaine	
Malagne, 1– 5580 Rochefort Province de Namur Tél: 084/222103	L'archéoparc s'articule autour des vestiges fouillés, consolidés, restaurés et en partie relevés d'une des plus grandes villas romaines du nord de la Gaule.

→ ECRIS sur la carte ci-dessous les numéros des musées (1-2-3-4-5) dans les Provinces correspondantes.



- ECRIS
- le nom des périodes historiques dans le bon ordre sur la ligne du temps.
 - le numéro de chaque musée sous la période qui lui correspond.

N° ____	N° ____	N° ____	N° ____	N° ____

Ligne du temps non réalisée à l'échelle

7/ Voici cinq évènements.

ECRIS les lettres B – C – D – E correspondant aux évènements dans le tableau ci-dessous.

La lettre A a déjà été placée dans le tableau.

A. En France, en 1892, une loi est votée qui limite la journée de travail à 11 heures pour les femmes.

B. Le 8 septembre 2009, Lubna Ahmed al-Hussein a été condamnée par un tribunal soudanais parce qu'elle portait un pantalon.

C. En 1941, Marguerite Bervoets entre dans la Résistance belge.

D. En Allemagne, Angela Merkel est élue au poste de chancelier fédéral le 22 novembre 2005.

E. Marie Popelin termine ses études de droit à l'Université Libre de Bruxelles en 1888. Elle n'a jamais reçu l'autorisation d'exercer sa profession.

	Avant la Seconde Guerre mondiale	Pendant la Seconde Guerre mondiale	Après la Seconde Guerre mondiale
En Belgique			
Autre pays de l'Union européenne	A		
Ailleurs dans le monde			

8/ « C'est un petit pas pour l'homme, mais un bond de géant pour l'humanité... »

Paroles de Neil ARMSTRONG

- Quand ces paroles ont-elles été prononcées ? COCHE la bonne réponse.

☐ 21 juillet 1969 ☐ 14 juillet 2009 ☐ 21 juillet 1830 ☐ 14 juillet 1958

- A quelle occasion ces paroles ont-elles été prononcées ? COCHE la bonne réponse.

☐ L'inauguration de la station européenne.

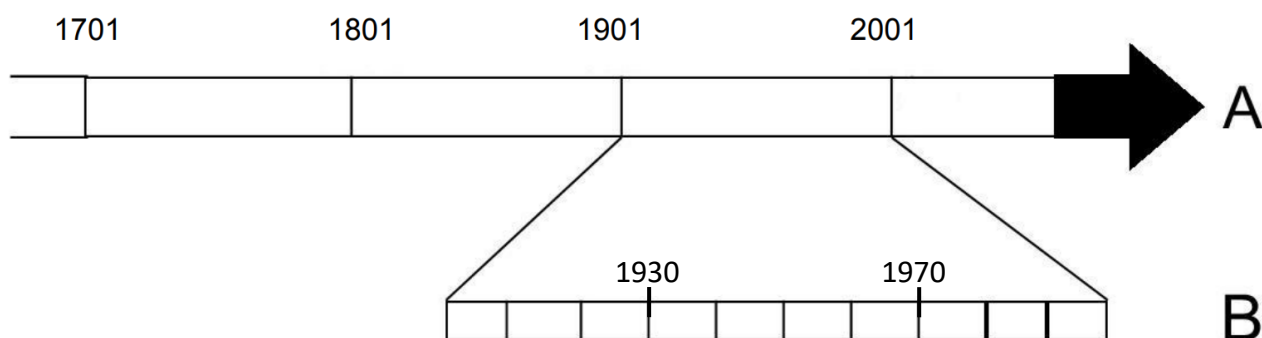
☐ L'inauguration du pavillon spatial à l'exposition de 1958.

☐ Premier astronaute à avoir marché sur la Lune.

☐ Premier navigateur à avoir franchi la Manche.

Fils d'un modeste cordonnier de Gand, Leo Baekeland naquit au XIX^{ème} siècle. Doué en chimie, physique mathématique et économie, il obtient un doctorat en Sciences à l'université de sa ville en 1884. En 1889, il s'installe aux Etats-Unis. En 1907, il met au point un matériau révolutionnaire : la bakélite qui fera entrer le monde dans l'ère des matières plastiques. L'industrie photographique fut l'une des premières à s'intéresser à ce nouveau matériau. Le premier boîtier d'appareil photo en bakélite date de 1927.

- **COLORIE le XIX^{ème} (19^{ème}) siècle sur la ligne du temps A.**
- **COLORIE sur la ligne du temps B, le temps écoulé entre l'invention de la bakélite et sa première utilisation dans le domaine de la photographie.**



10/ Regarde attentivement les deux photos.



Photo prise le 27 septembre 2008



Photo prise le 3 juillet 1905

- **De quel siècle date la photo la plus ancienne ? COCHE la bonne réponse**

☐ 15^e siècle ☐ 19^e siècle ☐ 20^e siècle ☐ 21^e siècle

- **Cette photo apporte des informations sur la manière de vivre des gens de l'époque. Lesquelles ? COCHE trois réponses.**

Informations pour comprendre comment les gens ...

☐ ...travaillaient. ☐ ...s'habillaient. ☐ ...mangeaient. ☐ ...se déplaçaient.
☐ ...se soignaient. ☐ ...s'instruisaient. ☐ ...s'amusaient.