
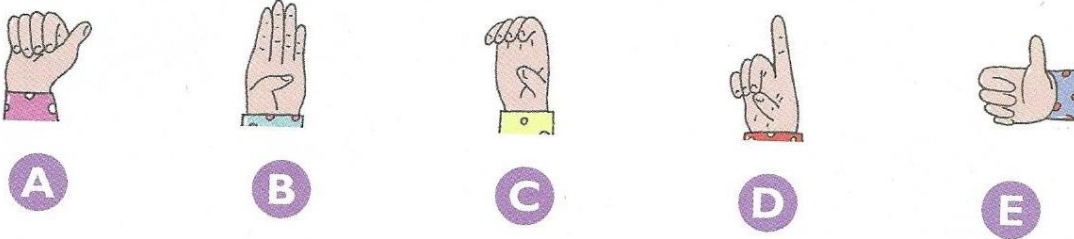


Antoine a coupé cette pizza en plusieurs morceaux de la même taille. Combien de morceaux a-t-il déjà mangés?




- A** 1 **B** 2 **C** 3 **D** 4 **E** 5

Chloé fait cinq gestes avec ses doigts. Quel geste fait-elle avec sa main gauche?



Rutabaga la sorcière a fait tomber 5 balais. Lequel est tout en dessous?



- A** A **B** B **C** C **D** D **E** E

Ahmed et Elsa font des figures avec des sucettes. Ahmed utilise toujours 8 sucettes. Elsa en utilise 7. Quelle est la figure d'Elsa?

